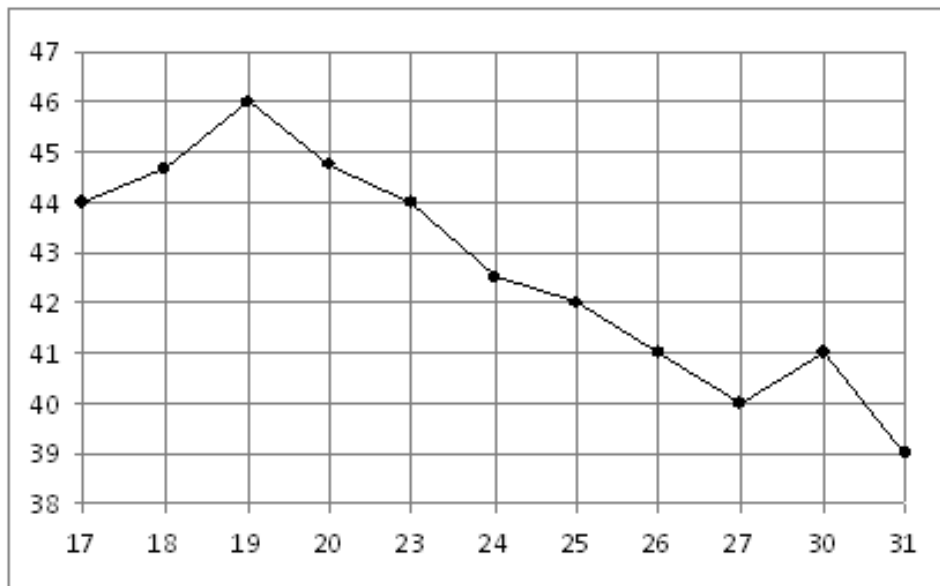


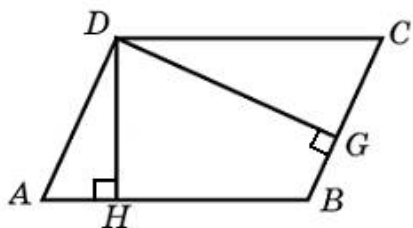
Вариант № ffff

В1. В летнем лагере на каждого участника полагается 40 г сахара в день. В лагере 166 человек. Сколько килограммовых упаковок сахара понадобится на весь лагерь на 5 дней?

В2. На рисунке жирными точками показана цена нефти на момент закрытия биржевых торгов во все рабочие дни с 17 по 31 августа 2004 года. По горизонтали указываются числа месяца, по вертикали — цена барреля нефти в долларах США. Для наглядности жирные точки на рисунке соединены линией. Определите по рисунку наименьшую цену нефти на момент закрытия торгов в указанный период (в долларах США за баррель).



В3. Стороны параллелограмма равны 9 и 15. Высота, опущенная на первую сторону, равна 10. Найдите высоту, опущенную на вторую сторону параллелограмма.



В4

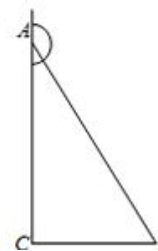
26684. Строительный подрядчик планирует купить 5 тонн облицовочного кирпича у одного из трех поставщиков. Вес одного кирпича 5 кг. Цены и условия доставки приведены в таблице. Во сколько рублей обойдется наиболее дешевый вариант покупки?

Поставщик	Цена кирпича (руб. за шт)	Стоимость доставки (руб.)	Специальные условия
A	17	7000	Нет
B	18	6000	Если стоимость заказа выше 50000 руб., доставка бесплатно
B	19	5000	При заказе свыше 60000 руб. доставка со скидкой 50%.

В5. Найдите корень уравнения $\log_4(x + 3) = \log_4(4x - 15)$.

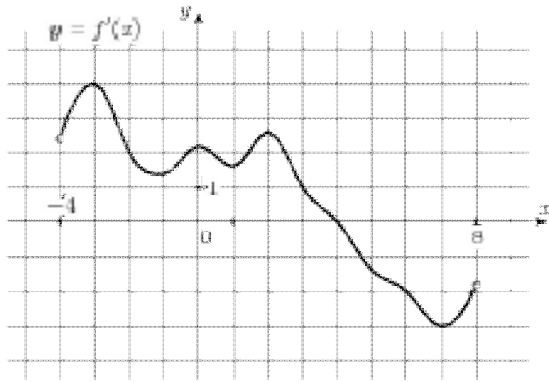
В6

27392. В треугольнике ABC угол C равен 90° , косинус внешнего угла при вершине A равен $-\frac{7}{25}$. Найдите $\sin A$.

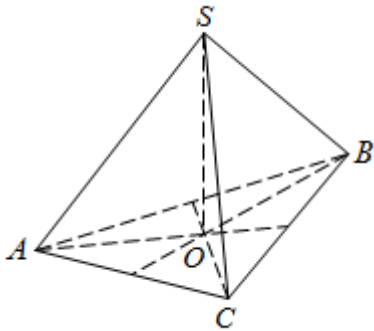


В7. Найдите $\operatorname{tg}\left(\alpha + \frac{5\pi}{2}\right)$, если $\operatorname{tg} \alpha = 0,4$.

В8. На рисунке изображен график производной функции $f(x)$, определенной на интервале $(-4; 8)$. Найдите точку экстремума функции $f(x)$ на отрезке $[-2; 6]$.

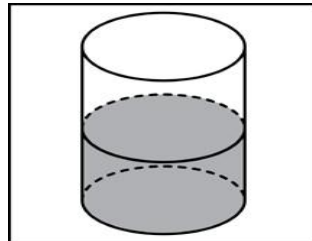


В9. В правильной треугольной пирамиде $SABC$ медианы основания ABC пересекаются в точке O . Площадь треугольника ABC равна 2; объем пирамиды равен 4. Найдите длину отрезка OS .



В10. В блюде 35 пирожков: 9 с мясом, 12 с яйцом и 14 с рыбой. Катя наугад выбирает один пирожок. Найдите вероятность того, что он окажется с рыбой.

В11. В цилиндрический сосуд налили 2000 см^3 воды. Уровень воды при этом достигает высоты 12 см. В жидкость полностью погрузили деталь. При этом уровень жидкости в сосуде поднялся на 9 см. Чему равен объем детали? Ответ выразите в см^3 .



В12. Деталью некоторого прибора является вращающаяся катушка. Она состоит из трех однородных соосных цилиндров: центрального массой $m = 8 \text{ кг}$ и радиуса $R = 10 \text{ см}$, и двух боковых с массами $M = 1 \text{ кг}$ и с радиусами $R + h$. При этом момент инерции катушки относительно оси вращения, выражаемый в $\text{кг} \cdot \text{см}^2$, дается формулой

$$I = \frac{(m + 2M)R^2}{2} + M(2Rh + h^2)$$

. При каком максимальном значении h момент инерции катушки не превышает предельного значения $625 \text{ кг} \cdot \text{см}^2$? Ответ выразите в сантиметрах.

В13. Один мастер может выполнить заказ за 12 часов, а другой – за 6 часов. За сколько часов выполнят заказ оба мастера, работая вместе?

В14.

Найдите наибольшее значение функции $y = \frac{x^2 + 25}{x}$ на отрезке $[1; 10]$.